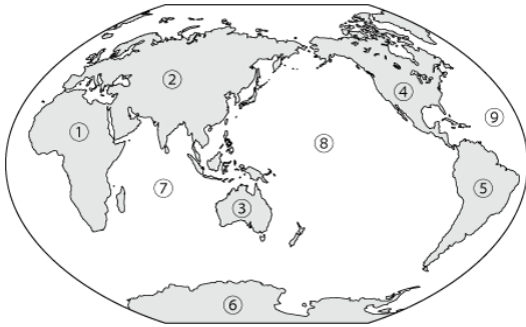


3月第2週 新中I社会

1. 大陸と海

A 大陸と海の面積比= _____ :

B 大陸と海の名前



【大陸と海】

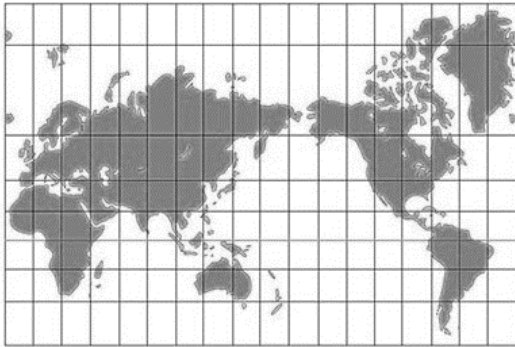
- ① _____
- ② _____
- ③ _____
- ④ _____
- ⑤ _____
- ⑥ _____
- ⑦ _____
- ⑧ _____
- ⑨ _____

【州】

- ① _____
- ② _____
- ③ _____
- ④ _____
- ⑤ _____

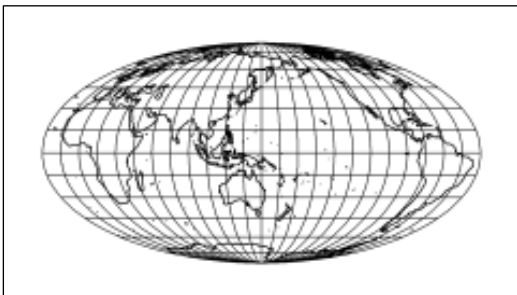
2. 地図の種類

地図A



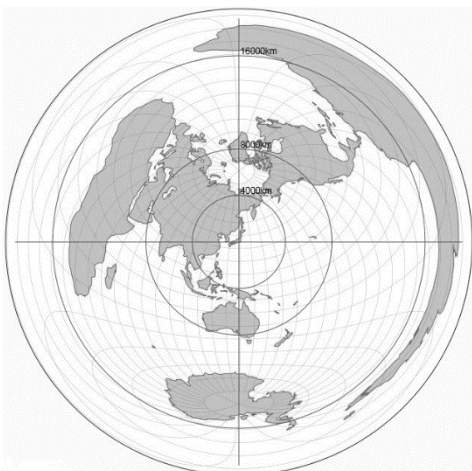
- ①種類 _____
- ②特徴 _____
- ③短所 _____
- ④用途 _____

地図B



- ①種類 _____
- ②特徴 _____
- ③短所 _____
- ④用途 _____

地図C



- ①種類 _____
- ②特徴 _____
- ③短所 _____
- ④用途 _____